

平成25年度鳥取県立高等学校入学者選抜  
学 力 検 査 問 題

社 会

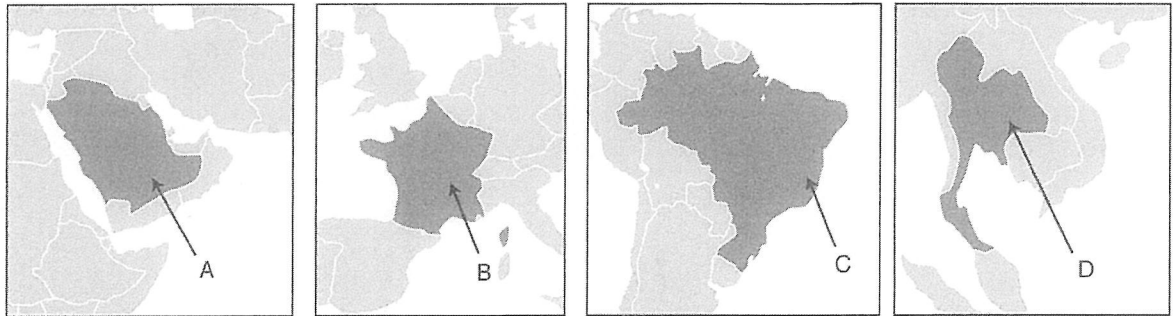
(第3時限 11:30~12:20 50分間)

注 意

- 1 「始め」の合図があるまで、開いてはいけません。
- 2 問題は全部で4題あり、14ページまでです。
- 3 「始め」の合図があったら、まず、解答用紙に受検番号を書きなさい。
- 4 答えはすべて解答用紙に書きなさい。
- 5 問題を読むとき、声を出してはいけません。
- 6 「やめ」の合図で鉛筆を置きなさい。

【問題 1】

問 1 A～Dの国は、説明文 I～IVのいずれかの国である。A～Dの国と説明文を見てあとの各問いに答えなさい。



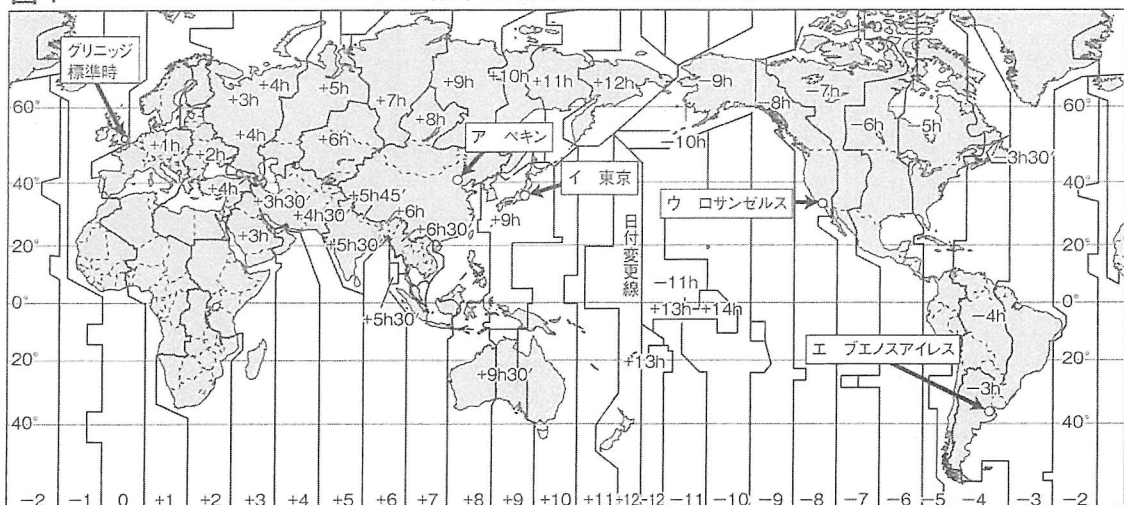
説明文

- I…流域面積が世界で最も大きい河川が流れており、A～Dの国のなかでは、日本から最も遠くに位置する国
- II…日本にとって原油の最大の輸入先であり、酒や豚肉を飲食しないことなど、( X ) 教にもとづく生活習慣が守られている国
- III…江戸時代はじめに( Y ) 貿易の発展にともない、多くの日本人が移住し、日本町ができた国
- IV…明治時代はじめに岩倉使節団が立ち寄った国のひとつであり、現在も日本から多くの観光客が訪れるたくさんの名所を有する首都がある国

- (1) Aの国について表したものを説明文のI～IVからひとつ選び、ローマ数字で答えなさい。
- (2) 説明文の空欄( X ), ( Y )に入る適切な語を答えなさい。なお、( X ) 教は宗教名、( Y ) 貿易は外国との貿易名である。
- (3) 図1は、グリニッジ標準時を基準にした等時帯である。これを見て、Bの国の首都と9時間の時差がある都市を、次のア～エからひとつ選び、記号で答えなさい。なお、Bの国の首都は、+1の帯の中に位置している。また、サマータイムは考えないものとする。

ア ペキン      イ 東京      ウ ロサンゼルス      エ ブエノスアイレス

図1      グリニッジ標準時を基準にした等時帯

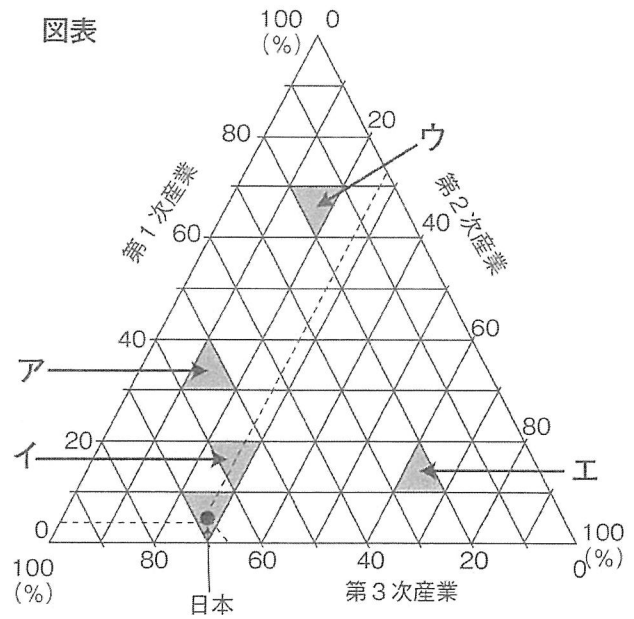


(4) 表1は、日本およびA～Dの国の産業別人口の割合を示したものである。表1の日本を右の図表中に表すと、●の位置となる。これを参考にすると、表1のCの国はどこに位置するか、図表中のア～エからひとつ選び、記号で答えなさい。

表1 日本およびA～Dの国の産業別人口の割合(%)

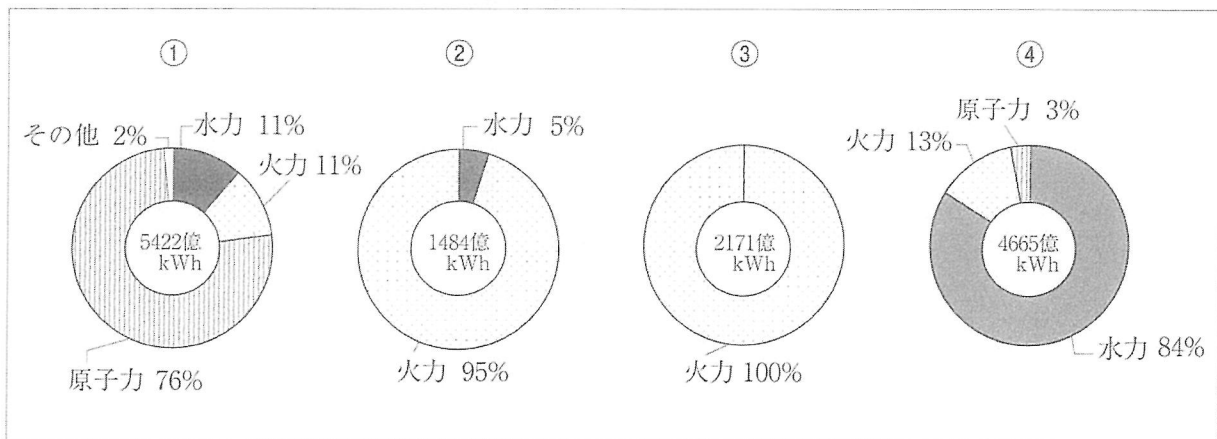
国名	調査年	第1次産業	第2次産業	第3次産業
日本	2008	4.2	27.3	68.5
A	2007	4.7	19.8	75.5
B	2007	3.4	23.2	73.4
C	2007	18.3	22.0	59.7
D	2008	42.5	19.6	37.9

(2012/13 「世界国勢図会」ほかより作成)



(5) グラフ1の①～④は、A～Dのいずれかの国の総発電量と発電量の内訳を示したものである。その組み合わせとして適当なものを、あとのア～エからひとつ選び、記号で答えなさい。

グラフ1 A～Dの国の総発電量と発電量の内訳 (2009年)



(2012/13 「世界国勢図会」より作成)

ア ①-B ②-A ③-C ④-D  
ウ ①-A ②-C ③-B ④-D

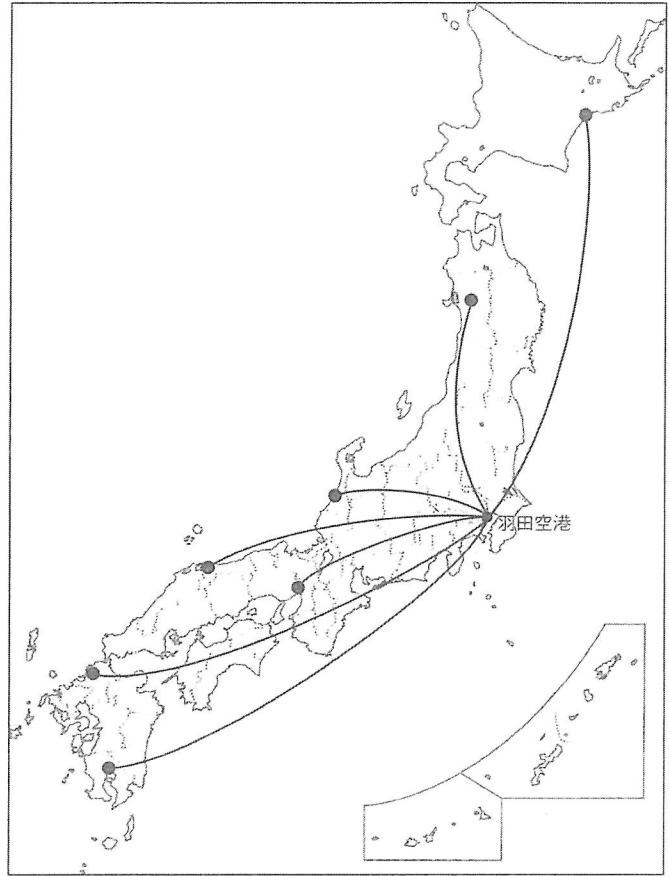
イ ①-A ②-B ③-D ④-C  
エ ①-B ②-D ③-A ④-C

問2 東京に住んでいるみゆきさんは、羽田空港から一日500便以上の航空機が国内の各地に向けて出発していることを知り、航空機を利用して行く旅行のテーマⅠ～Ⅳを考えた。その際、テーマに沿った行き先の候補として7つの道県について調べ、羽田空港とそれぞれの道県にある空港を結ぶ地図を作成した。あとの各問いに答えなさい。

旅行のテーマ

- テーマⅠ 「冬の城下町を楽しむ」
- テーマⅡ 「夏の離島を楽しむ」
- テーマⅢ 「秋の紅葉を楽しむ」
- テーマⅣ 「春の自然公園を楽しむ」

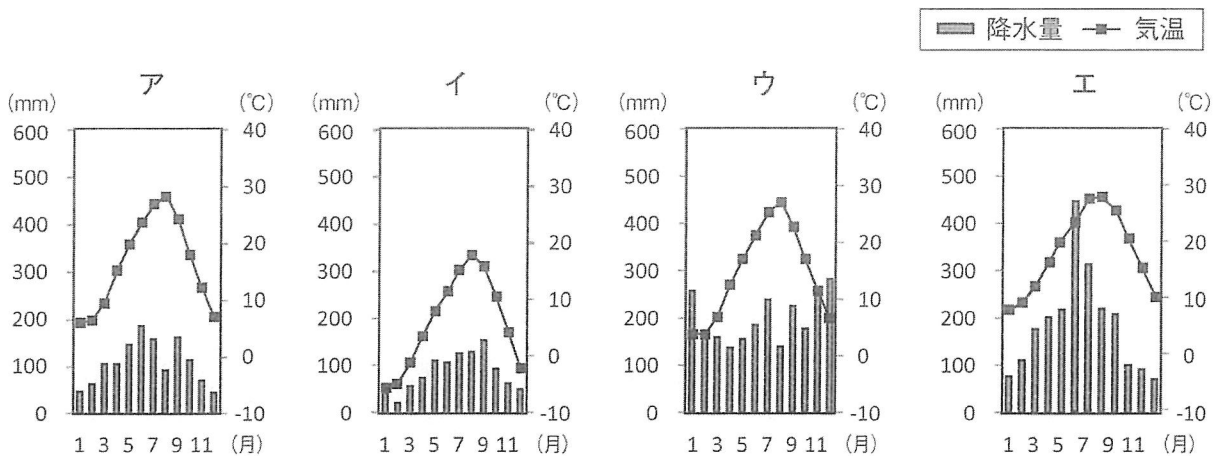
地図



(1) テーマⅠの行き先の候補とした道県には、一向一揆をおこした浄土真宗の信徒を中心に約100年間自治がおこなわれた歴史があり、漆器などの伝統工芸が有名である。

この道県の道県庁所在地の雨温図として適当なものを、あとのア～エからひとつ選び、記号で答えなさい。

また、この道県庁所在地名を答えなさい。

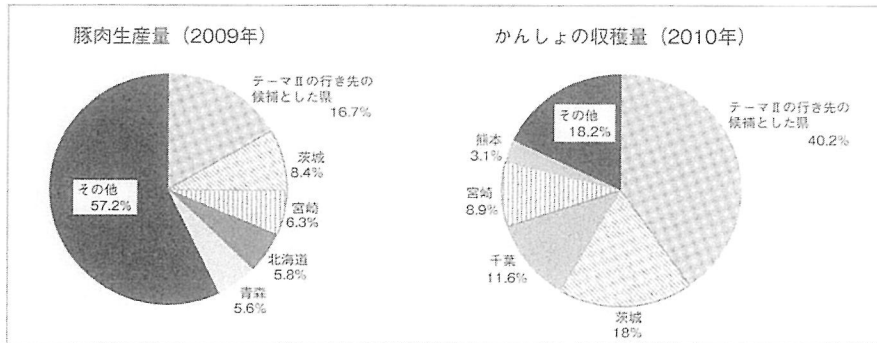


(「平成24年 理科年表」より作成)

- (2) テーマⅡの行き先の候補とした県には、世界遺産に登録されている屋久島がある。また、水はけの良い（ X ）や丘陵地が広がっているため、それに適した農業・畜産業がおこなわれている。

グラフ2を参考にして、その県名および空欄（ X ）に入る地形を答えなさい。

グラフ2 豚肉生産量，かんしょの収穫量の上位5道県の割合

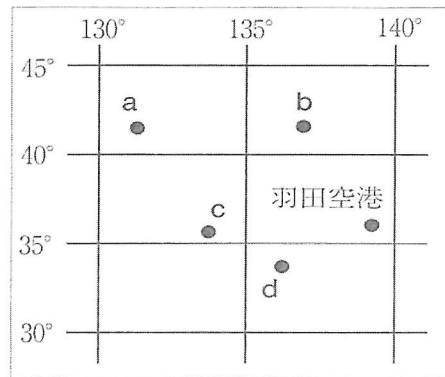


（「2012 データでみる 県勢」より作成）

- (3) テーマⅢの行き先の候補とした鳥取県には、中国地方最高峰の大山がある。その空の玄関口である米子空港は、「米子鬼太郎空港」と呼ばれている。図2，写真1を見て、各問いに答えなさい。

- ① 米子空港の位置は、緯度と経度を使って表した図2中のどの位置になるか、羽田空港の位置を参考にして、最も適当なものを図2中のa～dからひとつ選び、アルファベットで答えなさい。

図2



- ② みゆきさんは、米子市で国際マンガサミットが開催されていたことを知ったので、鳥取県のホームページを見ると、写真1のようにマンガを活用して、「ふるさと納税制度」を紹介していた。この制度を活用して一定額以上の寄付金を納めた人は、住民税や所得税が軽減される。このうち所得税について述べた文として適当なものを、次のア～エからひとつ選び、記号で答えなさい。

写真1



- ア 法人税と同じ直接税である。
- イ 消費税と同じ直接税である。
- ウ 法人税と同じ間接税である。
- エ 消費税と同じ間接税である。

- (4) みゆきさんは、作成した地図に示した7つの空港間の航空路線についても調べ、空港別の航空路線の有無を表2にまとめた。さらに表2をもとにして、航空路線がある空港間を線で結び図3を作成した。なお、図3の(A)~(F)には、表2の空港名のうちいずれかが入る。表2、図3を見て、各問いに答えなさい。

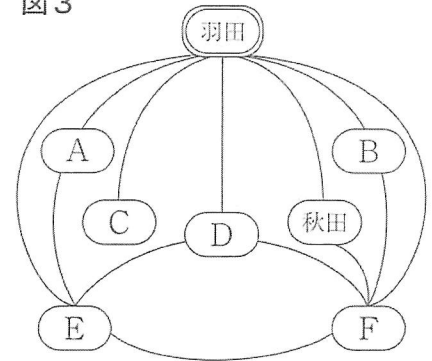
表2

空港名	羽田	釧路	秋田	小松	米子	大阪	福岡	鹿児島
羽田		○	○	○	○	○	○	○
釧路	○					○		
秋田	○					○		
小松	○						○	
米子	○							
大阪	○	○	○				○	○
福岡	○			○				○
鹿児島	○					○	○	

○印は航空路線あり

(「国土交通省ホームページ」より作成)

図3




- ① 図3について、(A)、(D)、(F)に入る空港名の組み合わせとして適当なものを、次のア~カからひとつ選び、記号で答えなさい。

- |   |          |           |          |
|---|----------|-----------|----------|
| ア | (A) - 釧路 | (D) - 米子  | (F) - 福岡 |
| イ | (A) - 小松 | (D) - 鹿児島 | (F) - 福岡 |
| ウ | (A) - 釧路 | (D) - 鹿児島 | (F) - 福岡 |
| エ | (A) - 小松 | (D) - 鹿児島 | (F) - 大阪 |
| オ | (A) - 釧路 | (D) - 米子  | (F) - 大阪 |
| カ | (A) - 小松 | (D) - 米子  | (F) - 大阪 |

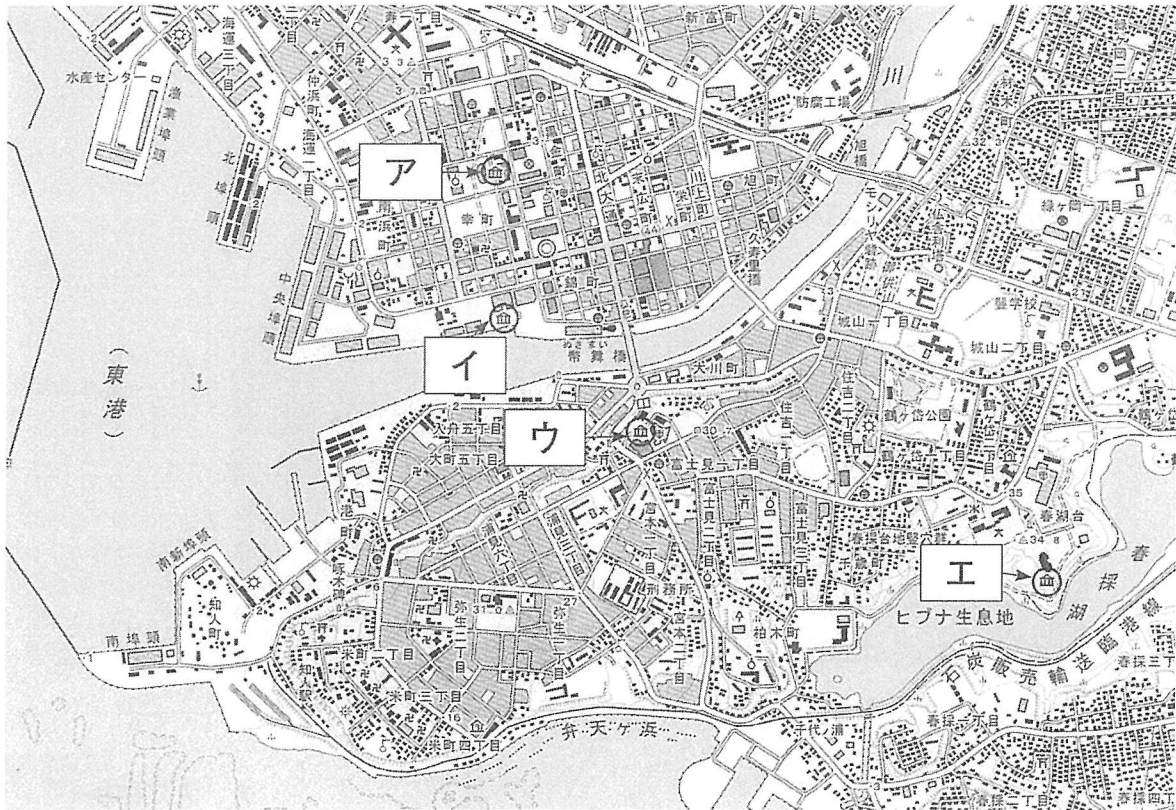
- ② みゆきさんは、テーマⅣの行き先の候補とした図3の空港(B)がある地域を調べるなかで、写真2の美術館を見つけた。美術館のホームページには「駅から徒歩20分、1.6キロメートル」とあり、地形図上では図書館の南側に位置することがわかった。

写真2の美術館の位置を地形図上のア~エからひとつ選び、記号で答えなさい。

写真2



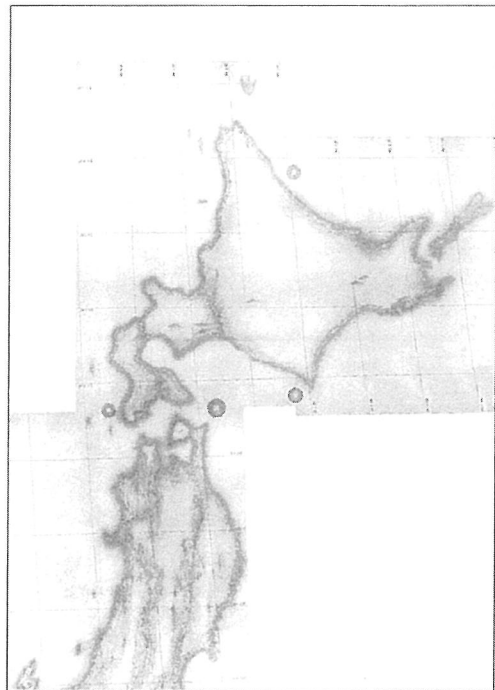
地形図



(国土地理院 平成21年発行 1 : 25000 地形図「(B)市」より作成)

(5) 右の資料は、江戸時代に作成された地図の一部である。みゆきさんは、作成した地図をながめながら、東京国立博物館にある資料を思い出し、現在の地図とほとんど同じであったことに改めて感心した。この資料を作成した人物とその作成方法について述べた文として適当なものを、次のア～エからひとつ選び、記号で答えなさい。

資料



- ア 伊能忠敬が西洋の測量術を取り入れて、全国の沿岸を実際に測量して作成した。
- イ 間宮林蔵が西洋の測量術を取り入れて、全国の沿岸を実際に測量して作成した。
- ウ 伊能忠敬が諸国の大名に命じて、その国ごとの地図を集めて作成した。
- エ 間宮林蔵が諸国の大名に命じて、その国ごとの地図を集めて作成した。


【問題 2】

問1 航平くんは、夏休みを利用して鳥取県内の歴史的な遺跡や石碑、建物などを見てまわり、資料を作成した。これを見て、あとの各問いに答えなさい。

資料

<鳥取県の歴史的な場所を訪れて>

I 仁風閣



鳥取市にある仁風閣に行きました。ルネサンス様式の名建築です。その名称は、日露戦争で日本海海戦に勝利した海軍大将東郷平八郎が名付けたそうです。

II 大伴家持歌碑



鳥取市国府町にある「大伴家持歌碑」を見ました。『万葉集』にも収録されている「新たしき年の始めの初春のけふ降る雪のいや重け吉事」という歌が刻まれていました。

III 大江神社



八頭町にある大江神社に行きました。この神社は、地頭の伊田氏によって修理された歴史がありました。(Y)の北条泰時が定めた御成敗式目では、神社や寺の修理は、武士の義務とされていたそうです。

IV 米子城跡



米子市にある米子城跡に行きました。米子城は、戦国時代の終わりにつくられたそうです。その後、将軍徳川家光の命で、池田光仲が、因幡と伯耆を合わせた鳥取藩主となると、家老の荒尾氏が米子城をあずかりました。

V 船上山




琴浦町にある船上山に登ってきました。北側部分が断崖絶壁になっている、とても険しい山でした。後醍醐天皇が、室町幕府によって流されていた隠岐から脱出した際、敵からの防備に適した山として一時立てこもった山であることを実感しました。その後、後醍醐天皇は、建武の新政と呼ばれる天皇中心の政治をおこないましたが、武士をはじめ、さまざまな人からの不満が高まりました。



- (1) 資料のⅠに関して、グラフは、日露戦争における日本の軍事費を表している。文を参考にして、空欄（ X ）に入る国名を答えなさい。なお、グラフと文の（ X ）には同じ国名が入る。

グラフ 日露戦争における軍事費



文

（ X ）は、清国内に多くの利権をもっていたことから、ロシアの南下を阻止しようとする日本と利害が一致し、日本と同盟を結んだ。

- (2) 資料のⅡに関して、『万葉集』がまとめられた時期として適当なものを、次のア～エからひとつ選び、記号で答えなさい。

- ア ワカタケル大王の名を刻んだ鉄刀や鉄剣がつけられた時代  
 イ 聖徳太子によって、仏教や儒教の考え方を取り入れた十七条の憲法がつけられた時代  
 ウ 聖武天皇によって、東大寺および大仏がつけられた時代  
 エ 紫式部の「源氏物語」がつけられた時代

- (3) 資料のⅢの航平くんの文章中の空欄（ Y ）には、北条氏が就いた「将軍に次ぐ幕府のまとめ役」を表す語が入る。その語を答えなさい。

- (4) 資料のⅣについて調べる中で、航平くんは、鳥取藩を舞台にえがかれた小説を読んだ。次は、その小説の一部である。これを読んで、各問いに答えなさい。

小説

天和三年三月、大藏殿は江戸在府の期間を満了し、鳥取城へ戻った。（中略）  
 財政の維持には相変わらず苦慮していた大藏殿であったが、帰藩して、公務にひと息ついた夜半、ひそかに喜多村八兵衛を居間に迎えた。

※「大藏殿」とは、鳥取藩主池田光仲のこと

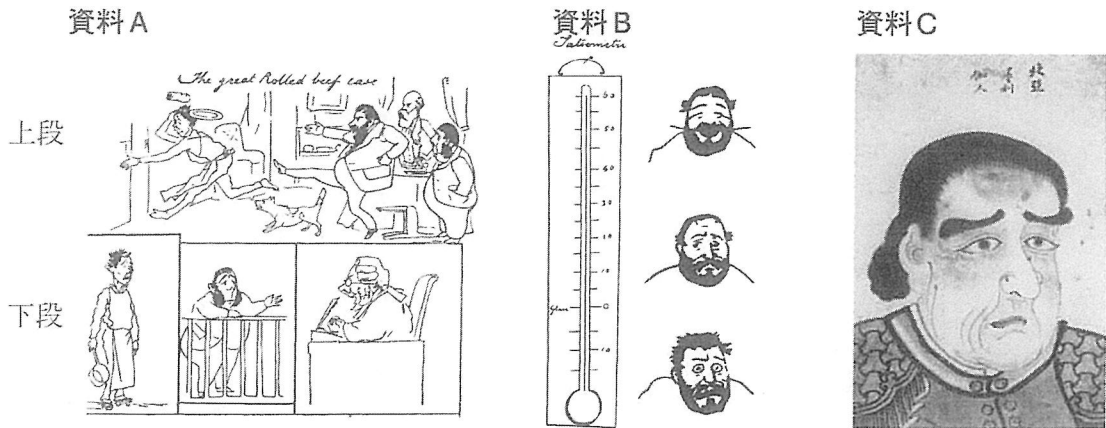
（宇江佐真理『深尾くれない』より一部引用、一部改）

- ① 小説の下線部は、何という制度によるものか答えなさい。  
 ② 小説にえがかれている時期と最も近いころにおこった出来事を述べた文として適当なものを、次のア～エからひとつ選び、記号で答えなさい。  
 ア イギリスで専制政治を行う国王が追放され、権利の章典がつけられた。  
 イ 中国では、漢民族が明を建国し、朝鮮半島では高麗がほろび、朝鮮国が建てられた。  
 ウ スペインは、大西洋を西回りでアジアに行く航路を開くために、コロンブスを支援した。  
 エ モンゴルは、チンギス＝ハンが民族を統一し、その孫の代にはユーラシア大陸の東西にまたがる大帝国となった。

- (5) 資料のⅤの航平くんの文章には、歴史的にみて誤っている語がひとつある。その語を抜き出して答えなさい。

- (6) 資料のⅠ～Ⅴについて、文章中の太字の人物が生きた時代を古い順に並べかえ、ローマ数字で答えなさい。なお、最後にはⅠが入り、あらかじめ解答用紙に記入してある。

問2 資料A～Cは、幕末から明治初期にかかれた絵である。資料A～Cと説明文を見て、あとの各問いに答えなさい。



(資料A, B「F. ベアト写真集1」, 資料C「了仙寺ホームページ」より)

説明文

資料Aは、明治時代の前半に、居留外国人向けに発行された雑誌の中の絵です。上段には、当時横浜に住んでいたイギリス人ベアトが、嫌いなビーフ・ステーキを出したとって雇っていた日本人のコックに皿を投げつけ、傷を負わせてしまった場面、下段には、この出来事に対する裁判の場面がえがかれています。

資料Bは、ベアトが、銀の売買をしたときの風刺画です。a 1877年以降の日本では激しいインフレーションがおり、横浜でも銀の相場が激しく上下しました。もうかると『ベアトの温度計』も上がり喜びの表情を示し、損をすると『ベアトの温度計』も下がり表情が険しくなるようすが表現されています。

資料Cは、幕末に黒船を率いてやってきたペリー（ペルリ）提督の絵です。b 西郷隆盛像に似ていることから、「西郷ペルリ」とよばれています。

- (1) 資料Aの下段にえがかれている裁判は、横浜で行われているにもかかわらず外国人が裁判をすすめている。その理由を、幕末に幕府が外国と結んだ条約の内容にてらして説明しなさい。
- (2) 説明文の下線部aについて、この混乱は、1877年におこった出来事が原因となっている。説明文の下線部bの人物が深く関わっているこの出来事について述べた文として適当なものを、次のア～エからひとつ選び、記号で答えなさい。

- ア 倒幕をめざして、薩摩藩と長州藩との同盟が結ばれた。
- イ 王政復古の号令を発し、天皇を中心とする新政府の成立を宣言した。
- ウ 政府内では、朝鮮に対して武力で開国をせまる征韓論が高まった。
- エ 士族の武力による反乱では最大の反乱となる西南戦争がおこった。

### 【問題 3】

問1 ゆたかさんところさん、アメリカから日本に留学中のトムさんの3人の会話文を読んで、あとの各問いに答えなさい。

#### 会話文

ゆたか	最近、世界のいくつかの国で、国のリーダーを決める a 選挙が行われたね。	マスコット
トム	アメリカで民主党のオバマ大統領が再選された、4年に一度の大統領選挙もそのひとつだね。	
ころ	日本でも、衆議院が解散され、総選挙が行われたよ。	
ゆたか	投票をよびかけるマスコットを見たな。	
トム	日本の国会にあたるアメリカの連邦議会選挙は、小選挙区制で行われているけど、日本ではどうなの。	
ゆたか	b 日本の総選挙は、小選挙区制と比例代表制を組み合わせた選挙制度で行われるよ。	
ころ	各政党は、経済、外交、c 憲法、社会保障などについて、それぞれの政策を主張していたね。	
トム	アメリカの大統領選挙では、経済政策が大きな争点のひとつになっていたよ。	
ゆたか	日本も長引くデフレ不況から脱却する方法をめぐって、各党がさまざまな主張をしていたな。	
トム	僕は、日本政府の経済政策に関心があるんだ。	
ころ	どうして。	
トム	アメリカからドルで送金してもらっている僕にとっては、d 為替相場に影響を与える経済政策はとても重要だからだよ。	
ゆたか	そうか。円安がすすむと、外国のお金の価値は上がるものね。	
トム	経済政策は、それぞれの国民生活をより良いものにするために行われるものだけど、日本で暮らす外国人の生活にも大きな影響を与えるんだよ。	
ゆたか	将来の主権者として、候補者やさまざまな政党の政策をしっかりと理解し、判断できるようになりたいね。	
ころ	そのとおりね。私たちも、政治や経済などについてしっかりと学ぶことが大切なのね。	

(1) 下線部 a について、文 1 の空欄 ( X ) に入る適切な語を、漢字で答えなさい。

#### 文 1

第二次世界大戦後、人権は各国の憲法で広く保障されるようになった。( X ) は、人権を確実に保障するためのさまざまな権利のひとつであり、政治が、主権者である国民の意思にもとづいて行われるために、国民に保障されている権利である。日本では、選挙に関するきまりや違反した場合の罰則など、選挙を通じての ( X ) の具体的な行使のあり方は、公職選挙法に定められている。

(2) 下線部 b について、衆議院議員の選挙における比例代表制を説明した文として適切なものを、次のア～エの中からひとつ選び、記号で答えなさい。

- ア 選挙区は全国を一つの単位としている。
- イ 各政党の議席数はドント方式によって配分される。
- ウ 小選挙区制よりも定数が多い。
- エ 小選挙区に立候補した候補者が重複して立候補することはできない。

- (3) 下線部cについて、国民の自由を守り、権力分立制を採用している憲法を、立憲主義の憲法という。立憲主義について述べた文2の空欄（ X ）～（ Z ）に入る語の組み合わせとして適当なものを、あとのア～クからひとつ選び、記号で答えなさい。

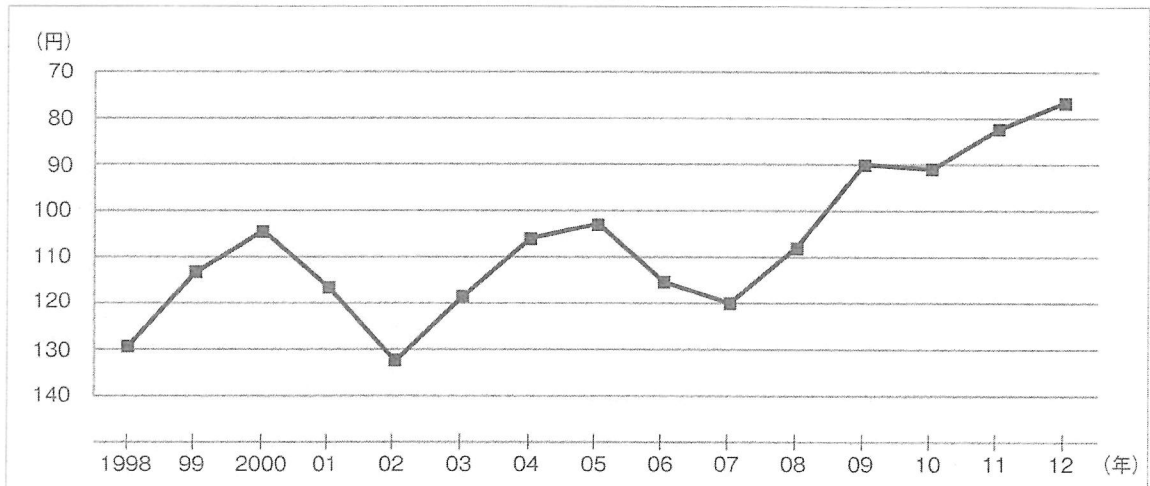
文2

立憲主義の憲法のもとでは、（ X ）が制定する（ Y ）も、内閣が制定する政令も、憲法に違反してはならない。そのため、憲法は（ X ）の制定した（ Y ）が、憲法に違反していないかどうかを判断する（ Z ）を裁判所に与えている。（ Z ）は、人権が憲法の定めるように保障されているかどうかを、最終的に見守る重要な役割があり、立憲主義の考え方を制度として具体化したものである。

- |          |      |         |          |      |         |
|----------|------|---------|----------|------|---------|
| ア X 国会   | Y 条約 | Z 弾劾裁判権 | イ X 国会   | Y 条約 | Z 違憲審査権 |
| ウ X 国会   | Y 法律 | Z 弾劾裁判権 | エ X 国会   | Y 法律 | Z 違憲審査権 |
| オ X 地方議会 | Y 条約 | Z 弾劾裁判権 | カ X 地方議会 | Y 条約 | Z 違憲審査権 |
| キ X 地方議会 | Y 法律 | Z 弾劾裁判権 | ク X 地方議会 | Y 法律 | Z 違憲審査権 |

- (4) 下線部dについて、グラフ1は、円のドルに対する為替相場の推移を表したものである。グラフ1を見て、その内容を説明した文3の空欄（ X ）、（ Y ）に入る適当な語を答えなさい。

グラフ1 円のドルに対する為替相場（1月平均値）の推移



(為替相場推移「日本銀行ホームページ」より作成)

文3


1998年から2012年にかけて、円のドルに対する為替相場は（ X ）が進む傾向にあった。1998年と比較すると、2012年は1.6倍以上も円の価値が変動しているため、日本の輸出産業にとっては（ Y ）な状態になっている。

問2 写真1は、サハラ砂漠以南のアフリカの干ばつのようすであり、写真2は、現地での日本の食料援助のようすである。また、文4は、この地域への日本の援助について述べたものである。写真1、2、文4を見て、あとの各問いに答えなさい。

写真1



写真2



(「国連食糧計画ホームページ」より)

- (1) 文4の空欄( X )に入る適切な語を、あとのア～エからひとつ選び、記号で答えなさい。

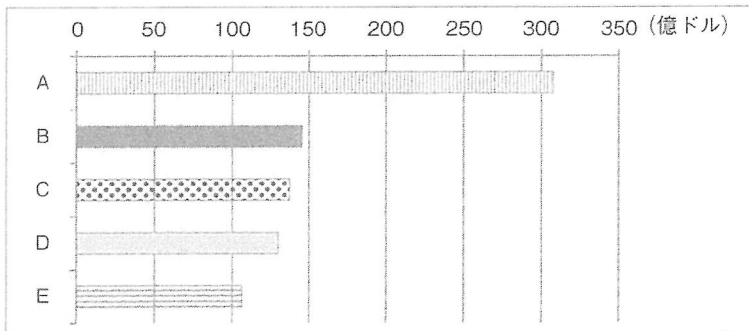
文4

日本政府は「( X )の安全保障」という考え方をいち早く採用し、ODA(政府開発援助)や国連政策を通じて、飢餓や貧困の解消、教育の振興、医療援助などの諸施策を広く実施している。

ア 環境    イ 人間    ウ 生命    エ 難民

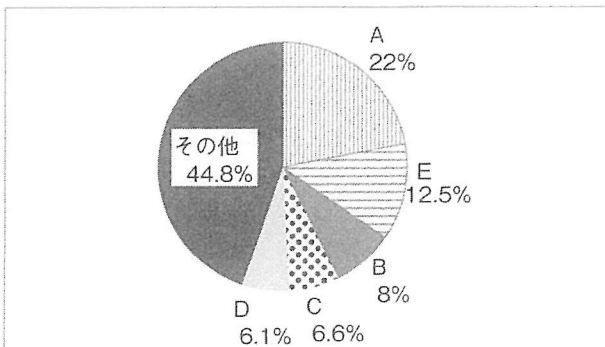
- (2) 文4の下線部について、グラフ2はA～Eの国別のODAの実績、グラフ3は国連通常予算の国別分担率をそれぞれ表し、A、C、Dは、国連の安全保障理事会の常任理事国である。日本は、A～Eのいずれに当たるか答えなさい。なお、グラフ2、グラフ3のA～Eは、それぞれ同じ国を表している。

グラフ2 A～Eの国別のODA実績(2011年)



(「外務省ホームページ」より作成)

グラフ3 国連通常予算分担率(2010～2012年)

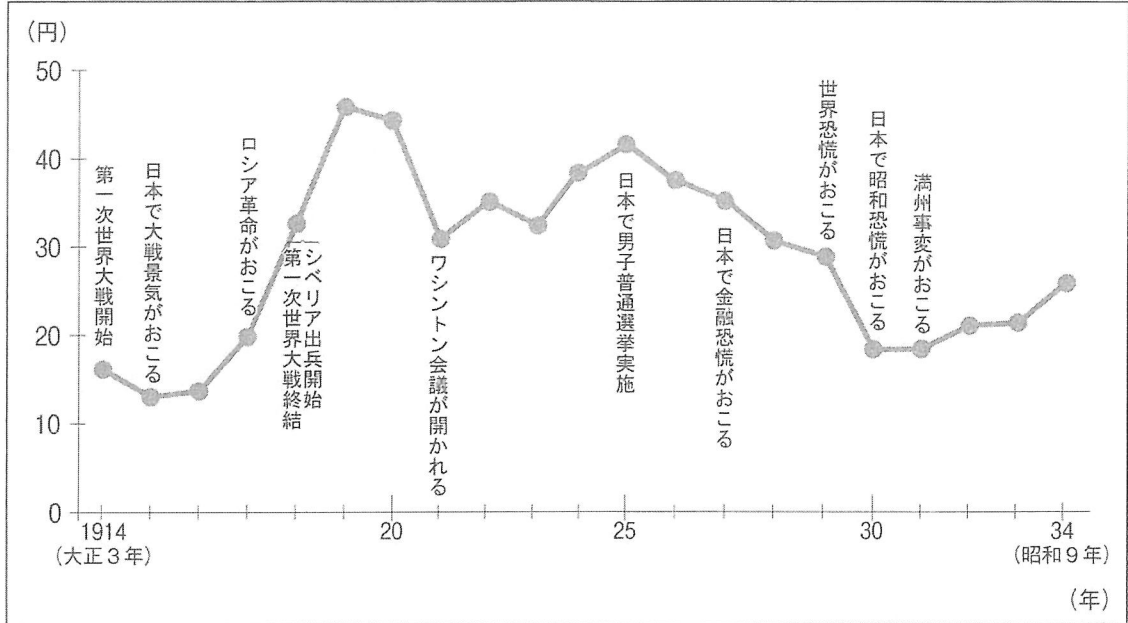


(「外務省ホームページ」より作成)

【問題 4】

問1 グラフ1は、東京の米相場の推移と当時の主な出来事を表したものである。これを見て、あとの各問いに答えなさい。

グラフ1 東京の米相場の推移（一石あたりの価格）と当時の主な出来事



(日本史総覧」より作成)

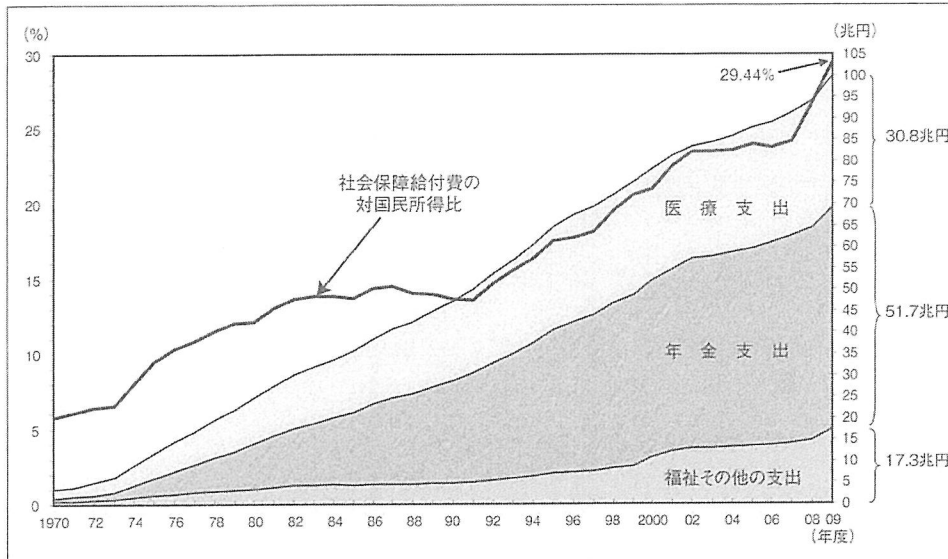
(1) グラフ1を見て、1914年から1934年までの米価の変動と当時の主な出来事について述べた文として適当なものを、次のア～エからひとつ選び、記号で答えなさい。

- ア 大正期の米価は、日本で大戦景気がおきた年に最安値となった。
- イ 昭和期の米価は、日本で昭和恐慌がおきた年に最高値となった。
- ウ 第一次世界大戦開始後数年間、日本の経済は好況となり、米価はこの大戦が終わるまで下落を続けた。
- エ 第一次世界大戦終結後数年間、日本の経済は不況となり、米価は満州事変まで下落を続けた。

(2) 1918年ごろ、シベリア出兵と関わって、出兵のための米の買いつけと、それを予想した商人たちの米の買いしめにより、米価が急激に上昇した。この時期、日本がシベリアに出兵した理由を、グラフ1中の出来事に着目して、説明しなさい。

問2 グラフ2は、社会保障給付費等の推移を表したものである。これを見て、あとの各問いに答えなさい。なお、社会保障給付費とは、医療支出、年金支出、福祉その他の支出の三つの合計である。

グラフ2 社会保障給付費等の推移



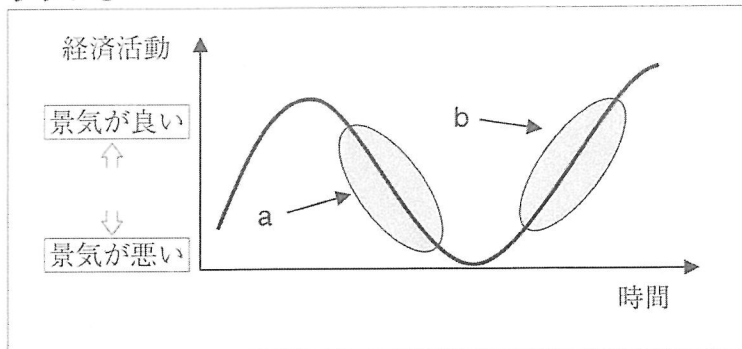
(「国立社会保障・人口問題研究所作成」より作成)

(1) グラフ2を見て、1970年以降の社会保障給付費等の変化を述べた文として誤っているものを、次のア～エからひとつ選び、記号で答えなさい。

- ア 1981年度以降、社会保障給付費に占める年金支出の割合は、医療支出の割合を上回っている。
- イ 社会保障給付費の対国民所得比が低下したのは、バブル経済のころである。
- ウ 2009年度の年金支出額は、1991年度の年金支出額の約2倍となった。
- エ 石油危機による不景気の結果、社会保障給付費は、70兆円をこえた。

(2) 2008年におきた世界金融危機は、世界各国の経済に大きな影響をおよぼし、グローバル化する経済がもつ一面を明らかにした。この危機後の日本の景気は、グラフ3のa、bどちらの局面と考えられるか、アルファベットで答えなさい。また、景気がこのような局面にある時、ゆきすぎた経済のうごきをおさえるために、一般的に政府がとる財政政策をひとつ答えなさい。

グラフ3



注…グラフ3は、景気循環を図示したものであり、縦軸が経済活動、横軸が時間の経過を示している。