

平成26年度鳥取県立高等学校入学者選抜
学 力 検 査 問 題

社 会

(第3時限 11:30~12:20 50分間)

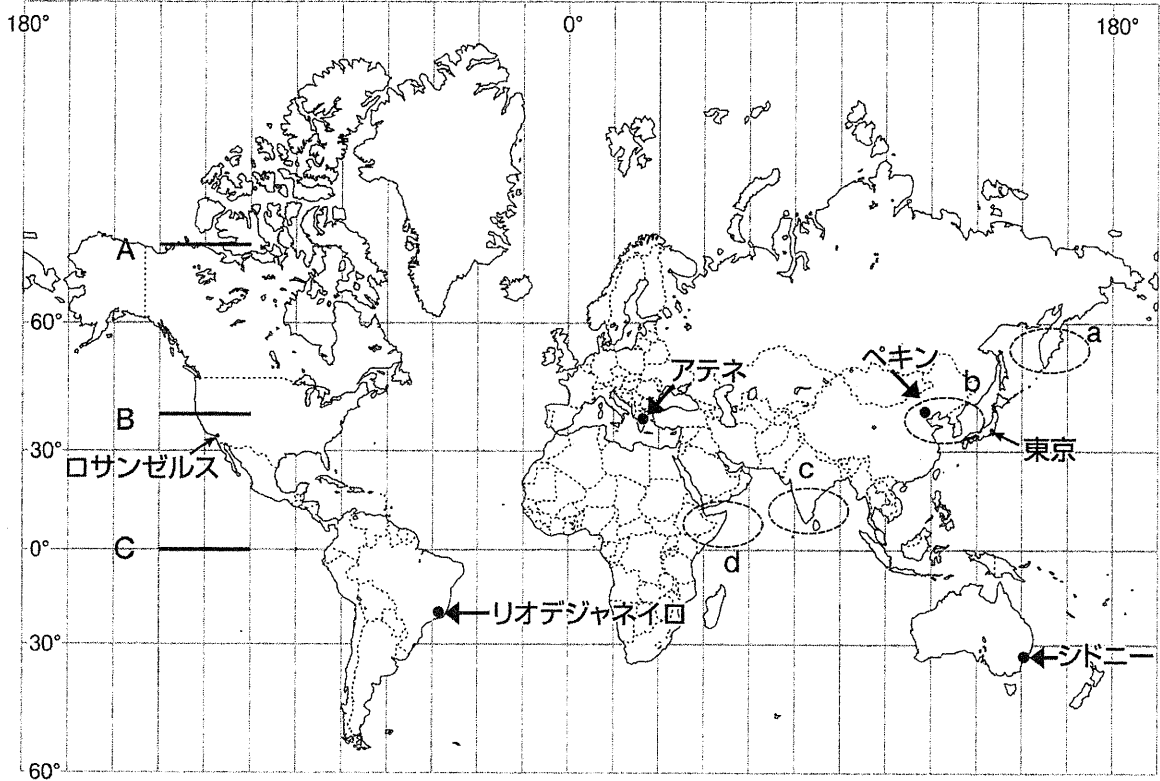
注 意

- 1 「始め」の合図があるまで、開いてはいけません。
- 2 問題は全部で3題あり、14ページまでです。
- 3 「始め」の合図があったら、まず、解答用紙に受検番号を書きなさい。
- 4 答えはすべて解答用紙に書きなさい。
- 5 問題を読むとき、声を出してはいけません。
- 6 「やめ」の合図で鉛筆を置きなさい。

【問題 1】

問 1 世界の地理について、あとの各問いに答えなさい。

地図 1 緯線と経線が直角に交わる地図



(1) 日付変更線は、ほぼ180度の経線に沿って、陸地にかからないように引かれている。ロサンゼルスから東京に向かう飛行機で、この線を東から西へこえたときの日付の変更のしかたとして適切なものを、次のア～エからひとつ選び、記号で答えなさい。


- ア 日付を1日進める。
- イ 日付を1日戻す。
- ウ 日付を2日進める。
- エ 日付を2日戻す。

(2) 地図 1 上で示した直線 A, B, C の実際の距離について述べた文として適切なものを、次のア～エからひとつ選び、記号で答えなさい。なお、地図 1 上の直線 A, B, C は、西経105度と西経135度の間の緯線を示すものとする。

- ア 直線 A, B, C の中で、実際の距離は、A が最も長い。
- イ 直線 A, B, C の中で、実際の距離は、B が最も長い。
- ウ 直線 A, B, C の中で、実際の距離は、C が最も長い。
- エ 直線 A, B, C の実際の距離は、いずれも同じである。

- (3) 写真は、宇宙航空研究開発機構（JAXA）のホームページで公開されている静止気象衛星「ひまわり5号」が撮影した地球の写真である。写真の○部分とほぼ同じ部分を、地図1上の○a～dからひとつ選び、記号で答えなさい。

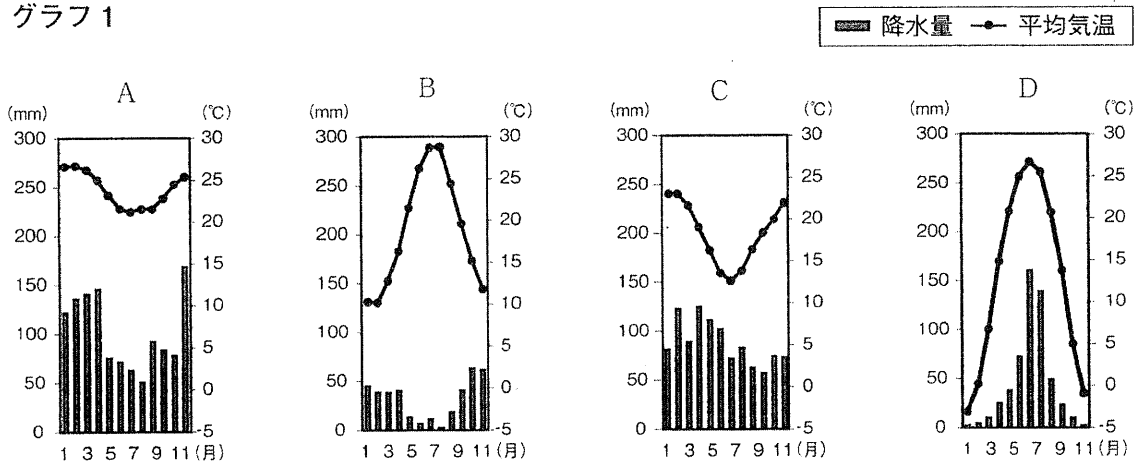
写真



「宇宙航空研究開発機構ホームページ」より

- (4) グラフ1のA～Dは、地図1上に示したリオデジャネイロ、アテネ、ペキン、シドニーのいずれかの都市の雨温図で、①～④は、それらの都市がある国の農業についての説明文である。アテネの雨温図とアテネがある国の農業の説明文との組み合わせとして適切なものを、あとのア～クからひとつ選び、記号で答えなさい。

グラフ1



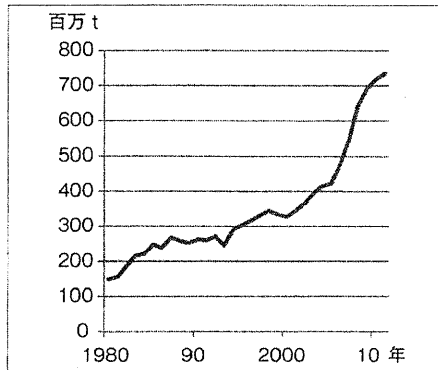
「平成25年 理科年表」より作成

- ① 夏にはぶどうやオリーブなど、冬には小麦などを栽培する農業が行われている。
- ② 南部では稲作が、北部では小麦やとうもろこしなどをつくる畑作が行われている。
- ③ コーヒーだけにたよらない農業を実現するため、大豆などの生産が増えている。
- ④ 小麦などの栽培とともに、肉食用の牛と羊毛用の羊の飼育がさかんである。

- | | | | |
|-------|-------|-------|-------|
| ア A-③ | イ A-④ | ウ B-① | エ B-② |
| オ C-① | カ C-② | キ D-③ | ク D-④ |

- (5) グラフ2は、ブラジルのさとうきびの生産量の推移を表し、文1は、その生産量が増加している理由をまとめたものである。文1の空欄（ A ）にあてはまる語を、カタカナ3文字で答えなさい。

グラフ2



「FAOSTAT」より作成

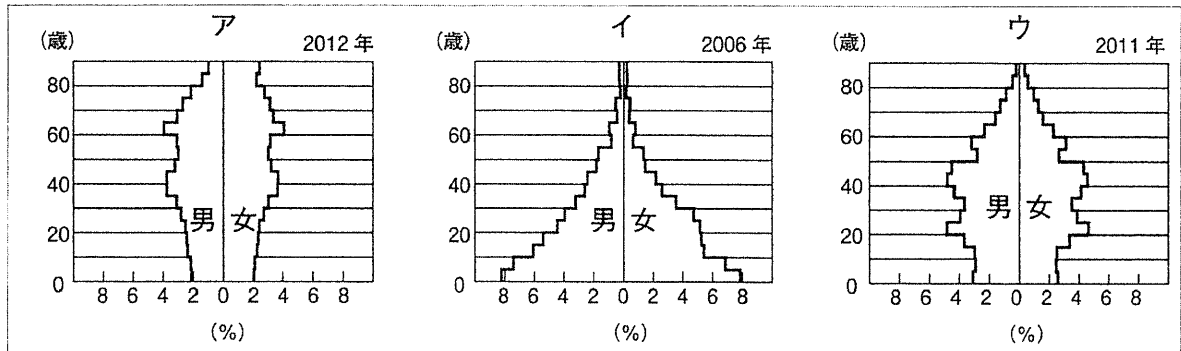
文1

ブラジルでは、図のように、さとうきびを原料とする（ A ）燃料の方が、ガソリンに比べて安価であり、（ A ）燃料で走る自動車が普及してきたため。

	☒
ガソリン1リットル当たりの価格	→ RS 2.18
（ A ）燃料1リットル当たりの価格	→ RS 1.15

- (6) グラフ3のア～ウは、日本、中国、ナイジェリアのいずれかの国の人口ピラミッドである。あとの文2を読んで、ウの人口ピラミッドに該当する国名を、答えなさい。

グラフ3



「世界国勢図会2013 / 14」より

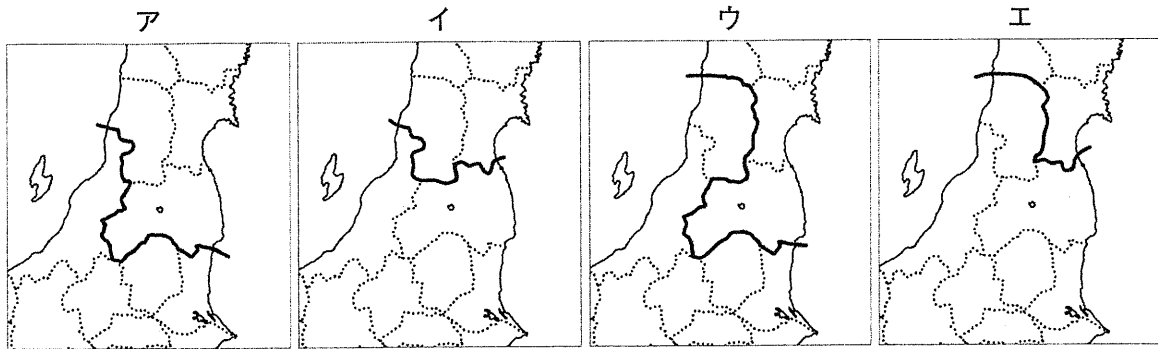
文2

発展途上国では、出生率と死亡率がともに高く、「富士山型」の人口ピラミッドになる国がみられる。このような国で死亡率が下がると、急激な人口増加が予想される。そこで、1979年から「一人っ子政策」を進めた中国のように、人口増加をおさえる政策を取り入れる国もある。

一方、多くの先進国では、出生率と死亡率がともに低く、子育てしながらでも働きやすい環境をつくり、出生率を高めようとしている国がみられる。

問2 はるとさんとゆうなさんは、第64回全国植樹祭（平成25年に鳥取県で開催）で紹介された、「とうほくとっとり・森の里親プロジェクト（東北から鳥取県に持ち帰った木の種子を、学校等で育てて苗木にして返すことで、津波で奪われた海岸線の緑を再生させる取組）」に興味をもち、東北地方を訪れた。次の各問いに答えなさい。

(1) 二人が訪れた東北地方と、中部地方・関東地方との7地方区分による境界を示したものととして適切なものを、次のア～エからひとつ選び、記号で答えなさい。



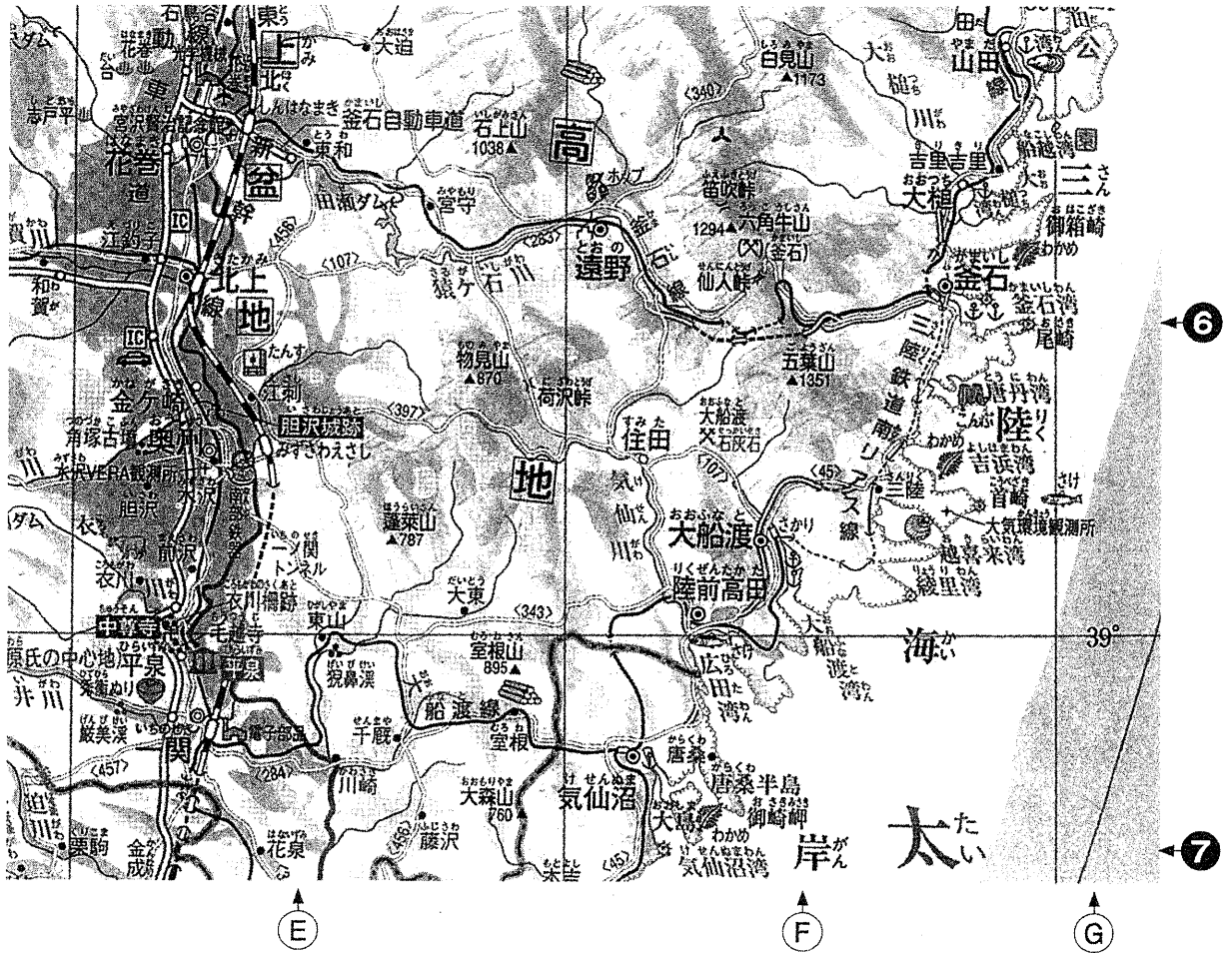
(2) 二人は、最初に岩手県久慈市の市役所を訪問し、市が作成したハザードマップを見せてもらった。このハザードマップが作成された目的として誤っているものを、次のア～エからひとつ選び、記号で答えなさい。

- ア 地域の住民に、どのような自然災害が発生する可能性があるかを示すため。
- イ 地域の住民に、自然災害の発生時の避難場所を示すため。
- ウ 地域の住民に、浸水で想定される水深を示すため。
- エ 地域の住民に、自然災害の発生による経済的損失がいくらになるかを示すため。



(3) 二人は、次の訪問地を、「とうほくとっとり・森の里親プロジェクト」で苗木を返した市に決めた。その市の位置は、地図帳の巻末のさくいんでは、「118F 6 S」と表記されていた。地図2をみて、その訪問地として最も適切なものを、あとのア～エからひとつ選び、記号で答えなさい。

地図2



ア 釜石市 イ 気仙沼市 ウ 奥州市 エ 陸前高田市

(4) ゆうなさんは、宮城県の気仙沼湾で、かきを養殖している漁師たちが森を復活させる運動（「森は海の恋人」運動）を行っていることを知り、あらためて森の大切さを学んだ。日本の森林のもつ役割について述べている文として誤っているものを、次のア～エからひとつ選び、記号で答えなさい。

- ア 自然のダムとして洪水を防ぐ役割
- イ 地球温暖化の原因の一つとされる二酸化炭素を吸収する役割
- ウ 地下水を減少させて地盤沈下を防ぐ役割
- エ 川を通して海の漁場に運ばれる養分を育てる役割

(5) はるとさんは、最後に訪問した福島県で半導体の工場を見学した。文3は、はるとさんが東北地方の工業の変化についてまとめたものである。文3の空欄（ A ）、（ B ）に入る適切な語を、それぞれ答えなさい。


また、グラフ4は、福島県、千葉県、神奈川県、山口県のいずれかの県の製造品出荷額の割合（平成22年）を示している。福島県に該当するグラフとして適切なものを、グラフ4のア～エからひとつ選び、記号で答えなさい。

文3

東北地方では、冬には積雪によって農業ができないため、かつては関東地方などへ出かせぎに行く人が多かった。そこで、県や市町村は、地元の人々の働き場所として（ A ）をつくり、工場の誘致をはじめた。

1970年代から1980年代にかけて、新幹線や（ B ）が開通し、交通の便がよくなると、電気機械などをつくる工場が、広い用地と労働力を求めて、（ B ）の周辺にある（ A ）を中心に、進出してくるようになった。

グラフ4



「2013データでみる 県勢」より作成

【問題 2】

問1 社会科の時間に、興味をもった時代についてクラスの各班で調べ、次の資料Ⅰ～Ⅴを作成した。これを見て、あとの各問いに答えなさい。

資料Ⅰ



【調べた理由】9月12日の「とっとり県民の日」は、現在の鳥取県が誕生した日にちなんで平成10年に制定されたことを知り、この時代について調べることにしました。

【調べた内容】この時代は、政府が全国を直接治める中央集権国家をつくり上げ、人々の生活も大きく変化した。徳川慶喜の兄にあたる最後の鳥取藩主池田慶徳は、知藩事に任命されたが、その後、(A)が行われ、政府からはあらたに県令が派遣された。

資料Ⅱ



【調べた理由】先日高校生の兄が、「東郷池の図が高校の教科書にのっている。」と教えてくれました。図の中には「地頭」と「領家」の文字がみえました。そこで、この時代について調べることにしました。

【調べた内容】この時代には、武士による新しい政治がはじまり、御恩と奉公による、将軍と家来の結びつきをもとに、土地や住民などを支配するしくみができた。


資料Ⅲ



【調べた理由】日野町歴史民俗資料館を訪問しました。そこには、昔の農具が展示してあり、このような農具が使われはじめた時代について調べることにしました。

【調べた内容】この時代は、新田開発が進み農業生産がのびた。また、改良された脱穀用や選別用の農具が広まった。しかし、気温の低い時期もあり、何度も凶作にみまわれた。

資料Ⅳ



【調べた理由】「富士山」が、世界文化遺産に登録されました。三朝町でも以前から三徳山三佛(仏)寺投入堂を世界遺産に登録する運動を推進していることを聞き、これが建立された時代について調べることにしました。

【調べた内容】この時代は、浄土信仰が人々の心をとらえた。その信仰は中央の貴族たちから地方へと広がっていき、阿弥陀仏の像などがさかんにつくられた。

資料V



【調べた理由】白兔海岸で大国主命（おほのくにのみこと）の像を見て、「因幡の白うさぎ」の神話に興味をもちました。そこで、この神話がかかれている『古事記』がつくられた時代について調べることにしました。

【調べた内容】この時代の人々は、6年ごとに作成される戸籍に登録され、登録された6歳以上のすべての人々には、口分田が与えられた。人々は、その面積に応じて租を負担し、一般の成人男子には調・庸のほか、兵役の義務が課せられていた。

- (1) 資料Iの空欄（ A ）にあてはまる語を、答えなさい。
- (2) 資料Iに関して、この時代の文化面でのできごとについて述べた文として適切なものを、次のア～エからひとつ選び、記号で答えなさい。


- ア 芥川龍之介が『羅生門』を著した。
- イ 福沢諭吉が『学問のすゝめ』^(す)を著した。
- ウ 本居宣長が、国学を大成させた。
- エ 千利休が、わび茶を完成させた。

- (3) 資料IIに関して、この時代には、二度にわたる元軍の襲来があった。この襲来に関する説明として最も適切なものを、次のア～エからひとつ選び、記号で答えなさい。

- ア 元は日本に対して朝貢と服属を要求してきたが、執権北条泰時はその要求を退けた。
- イ 元軍の集団戦法に対して、幕府軍は「てつほう」と呼ばれるすぐれた火器を効果的に使用して善戦した。
- ウ 元軍は二度目の襲来の際、上陸できないうちに、暴風雨にあい大損害を受けて、引きあげた。
- エ 幕府は、元の二度の襲来の後、負担の大きい沿岸の警固をとりやめた。

- (4) 資料IIIに関して、この時代の後半には、飢饉（うき）が多く発生した。その影響を受けた都市では、右の絵のように、貧しい人々が、米を買い占めた商人を襲った。このことを何というか、答えなさい。

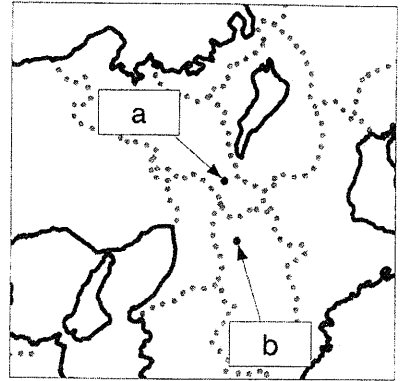
絵



- (5) 資料Ⅳに関して、この時代につくられた建造物と、それが建てられた場所を示す地図1上の「a」、「b」との組み合わせとして適切なものを、次のア～エからひとつ選び、記号で答えなさい。

- ア 平等院鳳凰堂 — a
 イ 法隆寺 — a
 ウ 平等院鳳凰堂 — b
 エ 法隆寺 — b

地図1



- (6) 資料Ⅴに関して、次の文は、この時代に出された法令の一部である。この法令が出された理由を、説明しなさい。

文

…今より以後は、任に私財と為し、三世一身を論ずること無く、^{みなことごと}咸悉くに永年取る^{なか}莫れ。
 (出典：続日本紀)

(内容) 今後は、(開墾した土地を)私有することを認め、期限を設けることなく、永久に国におさめなくてもよい。

- (7) 資料Ⅰ～Ⅴについて、それぞれの「この時代」を、古い順に並べかえ、ローマ数字で答えなさい。

問2 年表をみて、あとの各問いに答えなさい。


年表

年	一八七五	ア	一八九四	一八九五	イ	一九〇四	一九〇五	ウ	一九一四	エ	一九二〇	一九三一	一九三七	一九四一	一九四五	一九五六
	おもなできごと	樺太・千島交換条約を結ぶ	(a) 日清戦争が始まる	下関条約を結ぶ		日露戦争が始まる	(b) ポーツマス条約を結ぶ		第一次世界大戦が始まる		日本が国際連盟に加盟する	満州事変がおこる	日中戦争が始まる	太平洋戦争が始まる	連合国軍による日本の占領が始まる	(c) 日本が国際連合に加盟する

(1) 日本が、関税自主権を完全に回復し、幕末に結んだ不平等条約の改正をすべて達成した年は、どの時期に該当するか、年表のア～エからひとつ選び、記号で答えなさい。

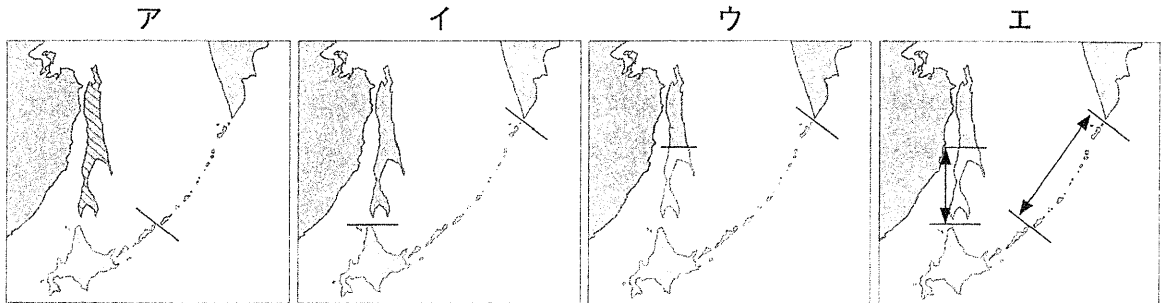
(2) 年表の (a) に関連して、日清戦争に勝利した日本は、下関条約で得た賠償金を使って、八幡村（現在の北九州市）に、日本の重工業の中心となる製鉄所（写真）を建設した。この地に製鉄所ができた理由を、製鉄に必要な原料とその産地を示して、説明しなさい。

写真



(3) 年表の (b) について、ポーツマス条約では、日本とロシアの国境が定められた。この条約に基づいた国境線を表す地図として、最も適切なものを、次の地図2のア～エからひとつ選び、記号で答えなさい。

地図2



は日本とロシア
両国民の混住の
地

は帰属未定の地域

〈外務省ホームページより作成〉

(4) 年表の (c) について、日本は、あるできごとの結果、国際連合に加盟し、国際社会に復帰した。あるできごととして適切なものを、次のア～エからひとつ選び、記号で答えなさい。

ア 朝鮮戦争が始まる

イ 日韓基本条約が結ばれる

ウ サンフランシスコ平和条約が結ばれる

エ 日ソ共同宣言が調印される

【問題 3】

問1 表は平成25年の日本のおもな政治の動きを示したものである。次の各問いに答えなさい。

表

月日	おもな政治の動き
1月28日	(A) 国会開会
2月22日	(a) TPP (環太平洋戦略的経済連携協定) について、「日米の共同声明」を公表
4月16日	平成25年度予算が衆議院で可決
5月15日	平成25年度予算が参議院で否決 同日予算成立
6月26日	(A) 国会閉会
7月21日	(b) 第23回参議院議員通常選挙が行われる
8月2日	(B) 国会開会
8月7日	(B) 国会閉会
10月15日	(C) 国会開会
12月8日	(C) 国会閉会

(1) 表の空欄 (A), (B), (C) に入る語の組み合わせとして適切なものを、次のア～カからひとつ選び、記号で答えなさい。

- ア A 通常 B 臨時 C 臨時
- イ A 通常 B 臨時 C 通常
- ウ A 通常 B 特別 C 臨時
- エ A 臨時 B 通常 C 臨時
- オ A 臨時 B 特別 C 通常
- カ A 臨時 B 臨時 C 通常

(2) 表の下線部 (a) に関連して、日本は、世界貿易機関 (WTO) を中心に自由貿易政策を進める一方で、自由貿易協定 (FTA) のように数か国間で協定を結ぶ動きも進めてきた。TPPも地域経済統合の動きのひとつであり、協定に参加する国の中で、自由貿易を促進しようとするものである。自由貿易を促進するために必要なこととして最も適切なものを、次のア～エからひとつ選び、記号で答えなさい。

- ア 高い関税をかける。 イ 政府開発援助 (ODA) を拡大する。
- ウ 関税を削減・撤廃する。 エ 政府開発援助 (ODA) を縮小する。

(3) 表の下線部 (b) に関連して、自由権、社会権、人権の保障を実現するための権利のうち、選挙権をはじめとする参政権は人権の保障を実現するための権利である。人権の保障を実現するための権利として適切なものを、次のア～エからひとつ選び、記号で答えなさい。

- ア 請求権 イ 生存権 ウ 教育を受ける権利 エ 勤労の権利

(4) 表の5月15日には、平成25年度予算が、参議院で否決されたにもかかわらず、憲法の規定により、その日のうちに成立している。その理由について述べた次の文の空欄 (A) に適当な語句を入れて、文を完成させなさい。

文

衆議院と参議院の議決が異なり、両院協議会でも意見が一致しなかったため、
(A) により成立した。

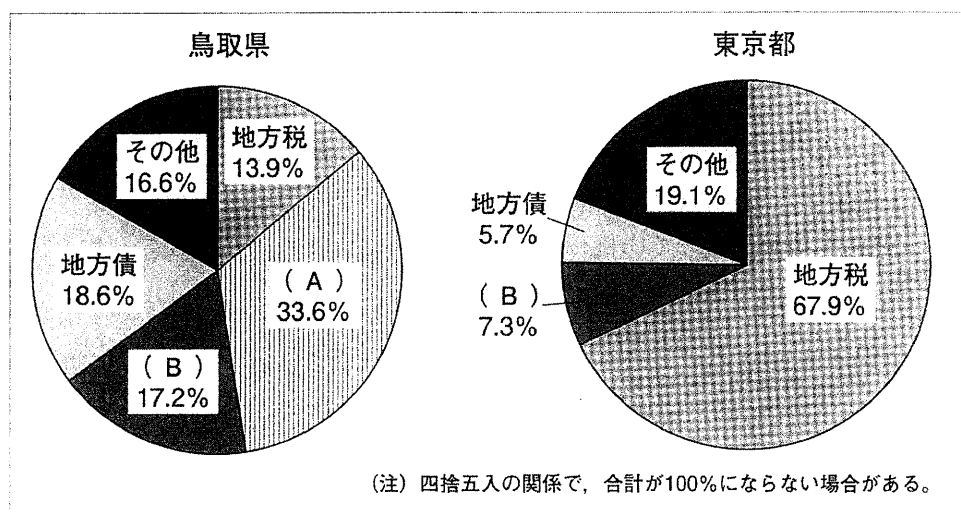
問2 鳥取県は、「日本一の鳥取砂丘を守り育てる条例」や「とっとりの豊かで良質な地下水の保全及び持続的な利用に関する条例」などの独自の条例を制定している。地方自治と環境問題について、次の各問いに答えなさい。

(1) 地方公共団体の住民が、首長に条例の制定を請求するのに最低限必要な署名の数を、次のア～エからひとつ選び、記号で答えなさい。

- ア 人口の50分の1以上の署名 イ 有権者の50分の1以上の署名
 ウ 人口の3分の1以上の署名 エ 有権者の3分の1以上の署名

(2) 地方公共団体では、様々な歳入をもとに仕事を行っている。次のグラフ1は、鳥取県と東京都の歳入の内訳とその割合を表している。グラフ1の(A)は、地方公共団体間の財政格差を是正するために、国が使い道を指定することなく、地方公共団体に配分する補助金である。空欄(A)にあてはまる語を、答えなさい。

グラフ1 鳥取県と東京都の歳入の内訳とその割合(平成22年度)



「2013データでみる 県勢」より作成

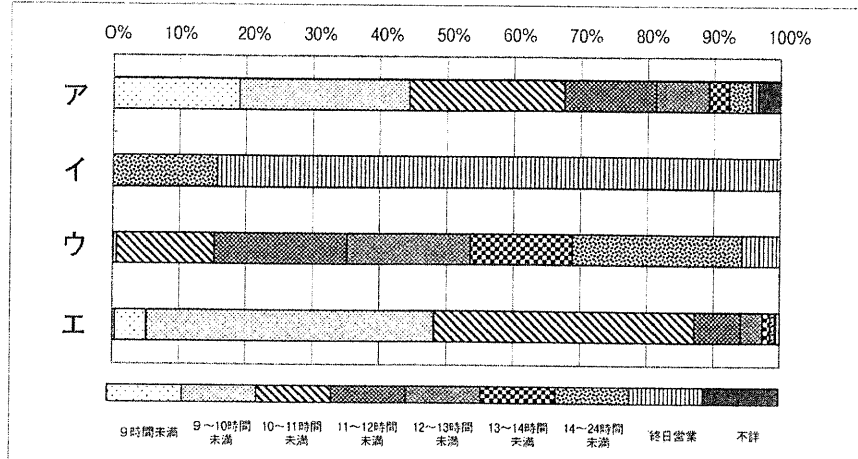
(3) 環境問題に対する日本の取り組みについて述べた文として適切なものを、次のア～エからひとつ選び、記号で答えなさい。

- ア 現在、環境問題を総合的にあつかう省庁は総務省である。
 イ 環境基本法をさらに発展させて、公害対策基本法が制定された。
 ウ 空港などの建設にあたっては、事前の環境アセスメントが義務づけられている。
 エ 京都議定書で、日本に循環型社会の実現が義務づけられた。

問3 私たちが住んでいる街にはたくさんのコンビニエンスストアがある。コンビニエンスストアに関連して、次の各問いに答えなさい。

(1) 次のグラフ2は、百貨店、総合スーパー、専門店、コンビニエンスストアのいずれかの営業時間別事業所数の割合を示したものである。コンビニエンスストアを表しているグラフを、グラフ2のア～エからひとつ選び、記号で答えなさい。


グラフ2



「総務省統計局 商業統計調査 業態別統計表 (平成19年度)」より作成

(2) 右の写真1のようなカードを機械にかざすことで、商品を購入できるシステムがある。このように、デジタルデータにお金としての価値をもたせたものを何というか、答えなさい。

写真1



(3) 商品を購入すると、右の資料のようなレシートをもらう。レシートには商品の価格とともに消費税の金額も表示されている。消費税について述べた文として適切なものを、次のア～エからひとつ選び、記号で答えなさい。

資料

ハムカツサンド	¥210
小計	¥210
.....	
合計	¥210
(内消費税等)	¥10
Edy支払	¥210
現金計	¥0

- ア 税金を納める義務のある人と税金を実際に負担する人が一致する直接税である。
- イ 税金を納める義務のある人と税金を実際に負担する人が一致しない直接税である。
- ウ 税金を納める義務のある人と税金を実際に負担する人が一致する間接税である。
- エ 税金を納める義務のある人と税金を実際に負担する人が一致しない間接税である。

- (4) 渋谷駅周辺のコンビニエンスストアの場所をインターネットで調べ、地図上に、同じ系列の店を、それぞれ ◆, ★で表すと、同じ系列のコンビニエンスストアが近距離で出店されていることがわかった。その理由を、「コンビニエンスストアの流通の工夫」を参考に、「効率」という語を使って、説明しなさい。

コンビニエンスストアの流通の工夫

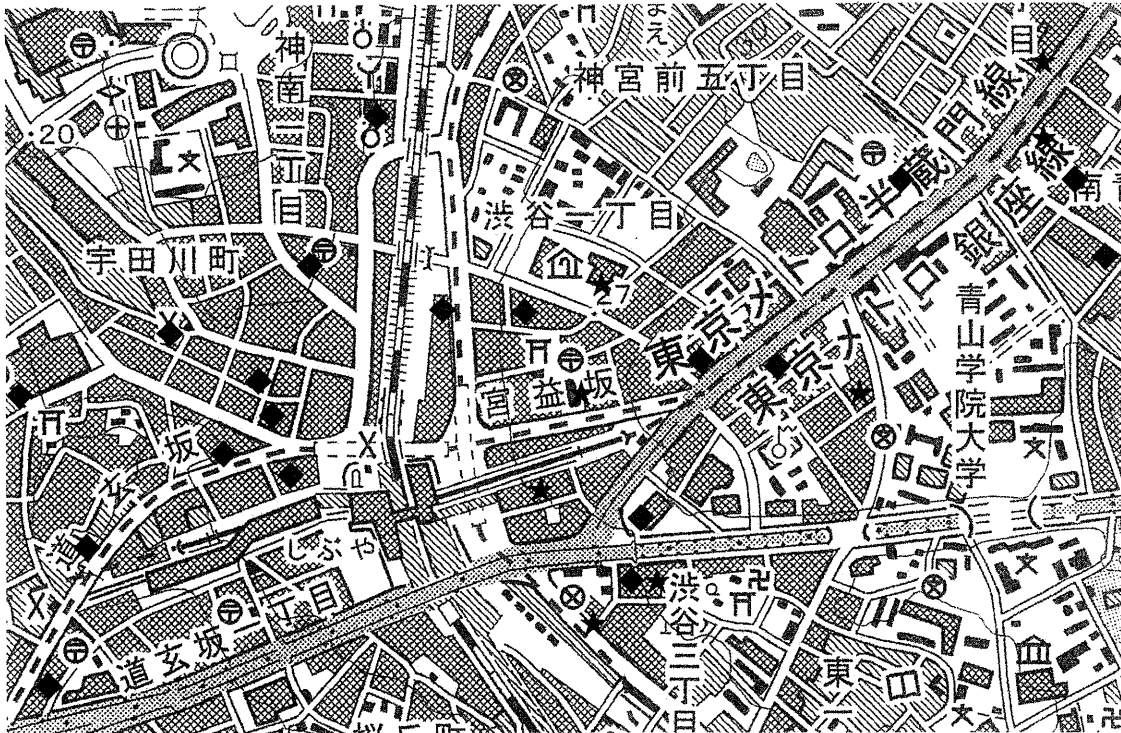
- ① コンビニエンスストアでは、右の写真2のようにPOSシステムにより商品管理をしている。
- ② コンビニエンスストアでは、デパートや総合スーパーなどの大規模小売業者のように商品を生産者から直接仕入れる方法ではなく、物流センターでまとめて仕入れをし、1日数回、小分けにして各店舗に配送している。

(注) POSシステムとは、販売時点情報管理システムのことで、どの店で、どの商品が、いつ、いくらで、いくつ販売されたのかなどの情報を記録、管理するもの。

写真2



地図



(国土地理院 平成25年発行 1 : 25000

地形図「東京西南部」より作成)

社会解答用紙

得点

問 題 1	問 1	(1)		(2)		(3)		(4)			
		(5)				(6)					
	問 2	(1)				(2)				(4)	
		(5)	A				B				記号

【問題1】

問 題 2	問 1	(1)				(2)				(3)			
		(4)											
		(5)											
		(6)											
		(7)	→ → → →										
	問 2	(1)											
		(2)											
		(3)				(4)							

【問題2】

問 題 3	問 1	(1)				(2)				(3)			
		(4)	衆議院と参議院の議決が異なり、両院協議会でも意見が一致しなかったため、()により成立した。										
	問 2	(1)				(2)	A				(3)		
		(1)				(2)				(3)			
	問 3	(4)											

【問題3】

受検番号

総得点